

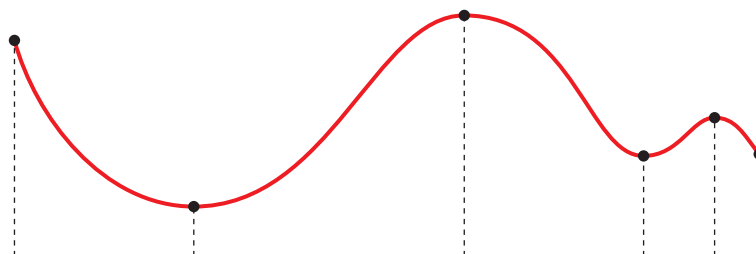
10

APLICACIONES DE LAS DERIVADAS

REFLEXIONA Y RESUELVE

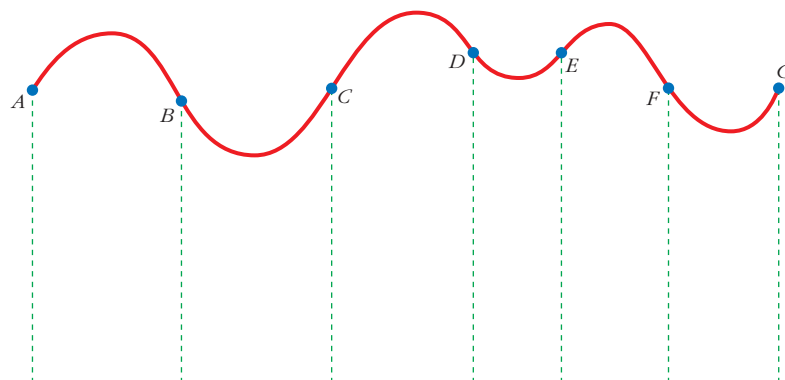
Relación del crecimiento con el signo de la primera derivada

■ Analiza la curva siguiente:



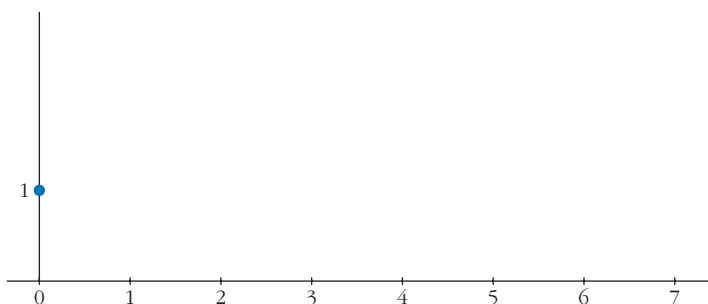
Relación de la curvatura con el signo de la segunda derivada

■ Describe el tramo CD y los tramos DE , EF y FG siguientes:



■ Dibuja la gráfica de una función, f , que cumpla las siguientes condiciones:

- La función está definida en $[0, 7]$.
- Solo toma valores positivos.
- Pasa por los puntos $(0, 1)$, $(3, 1)$ y $(7, 1)$.
- En el intervalo $(1, 2)$, la función es convexa.
- En el intervalo $(2, 4)$, $f'' > 0$.
- En el intervalo $(4, 6)$, f' es decreciente.
- En el intervalo $(6, 7)$, f es cóncava.



1. Halla las rectas tangentes a la curva:

$$y = \frac{5x^3 + 7x^2 - 16x}{x - 2}$$

en los puntos de abscisas 0, 1, 3.

- 2.** Halla las rectas tangentes a la circunferencia:

$$x^2 + y^2 - 2x + 4y - 24 = 0$$

en los puntos de abscisa $x_0 = 3$.

- 1.** Dada la función $y = x^3 - 3x^2 - 9x + 5$, averigua:

a) Dónde crece.

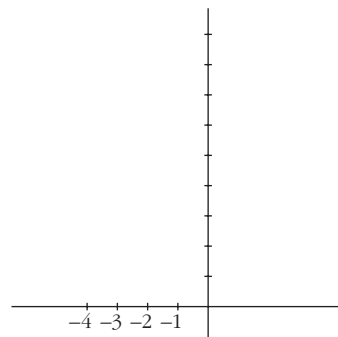
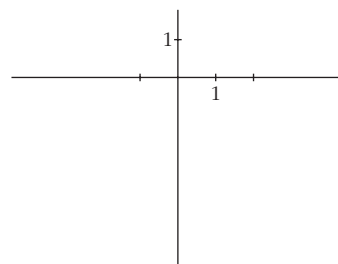
b) Dónde decrece.

- 2.** Comprueba que la función $y = x^3/(x - 2)^2$ tiene solo dos puntos singulares, en $x = 0$ y en $x = 6$.

Averigua de qué tipo es cada uno de esos dos puntos singulares; para ello, debes estudiar el signo de la derivada.

3. a) Halla todos los puntos singulares (abscisa y ordenada) de la función $y = -3x^4 + 4x^3$. Mediante una representación adecuada, averigua de qué tipo es cada uno de ellos.

b) Ídem para $y = x^4 + 8x^3 + 22x^2 + 24x + 9$.



1. Estudia la curvatura de esta función:

$$y = 3x^4 - 8x^3 + 5$$

2. Estudia la curvatura de la función siguiente:

$$y = x^3 - 6x^2 + 9x$$

1. Halla el número positivo cuya suma con veinticinco veces su inverso sea mínima.

- 2.** De todos los triángulos rectángulos cuyos catetos suman 10 cm, halla las dimensiones de aquel cuya área es máxima.
- 3.** Entre todos los rectángulos de perímetro 12 m, ¿cuál es el que tiene la diagonal menor?
- 4.** Determina las dimensiones que debe tener un recipiente cilíndrico de volumen igual a 6,28 litros para que pueda construirse con la menor cantidad posible de hojalata.

1. Calcula, aplicando L'Hôpital:

$$\text{a) } \lim_{x \rightarrow 0} \frac{\text{sen } x (1 + \cos x)}{x \cos x}$$

$$\text{b) } \lim_{x \rightarrow 0} \frac{e^x - e^{-x}}{\text{sen } x}$$

2. Calcula:

$$\text{a) } \lim_{x \rightarrow 0} \frac{e^{-x} + x - 1}{x^2}$$

$$\text{b) } \lim_{x \rightarrow -1} \frac{x^3 + 2x^2 + x}{x^3 + x^2 - x - 1}$$

3. Aplica L'Hôpital:

$$\lim_{x \rightarrow 0} (\cos x + \operatorname{sen} x)^{1/x}$$

4. Calcula:

$$\lim_{x \rightarrow +\infty} (1 - 2^{1/x})x$$

- 1. a)** Explica por qué $y = \operatorname{sen} x$ cumple las hipótesis del teorema de Rolle en el intervalo $[0, \pi]$.
- b)** ¿En qué punto se verifica la tesis del teorema de Rolle?

- 2.** Demuestra que $f(x)$ cumple las hipótesis del teorema del valor medio en el intervalo $[2, 6]$. ¿En qué punto cumple la tesis?

$$f(x) = \begin{cases} 2x - 3 & \text{si } x < 4 \\ -x^2 + 10x - 19 & \text{si } x \geq 4 \end{cases}$$

- 3.** Aplica el teorema del valor medio, si es posible, a la función:

$$f(x) = x^2 - 3x + 2 \text{ en } [-2, -1]$$

Calcula el valor correspondiente a c .

- 4.** Repite el ejercicio anterior para la función:

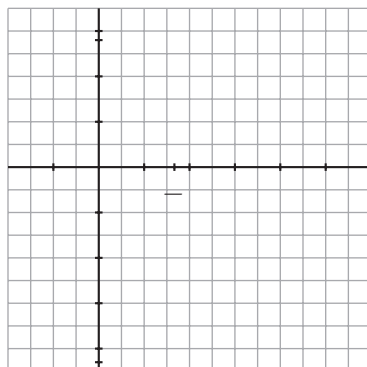
$$g(x) = x^3 - x^2 - x + 1$$

5. Aplicando el teorema de Rolle, demuestra que $x^3 - 3x + b = 0$ no puede tener más de una raíz en el intervalo $[-1, 1]$ cualquiera que sea el valor de b . (Hazlo por reducción al absurdo: empieza suponiendo que hay dos raíces en ese intervalo).

6. Calcula p , m y n para que

$$f(x) = \begin{cases} -x^2 + px & \text{si } -1 \leq x \leq 3 \\ mx + n & \text{si } 3 \leq x \leq 5 \end{cases}$$

cumpla las hipótesis del teorema de Rolle en el intervalo $[-1, 5]$. ¿Dónde cumple la tesis? Representala.



1. Demuestra que: “Si f es continua en $[a, b]$, derivable en (a, b) y $f'(x) < 0$ para $x \in (a, b)$, entonces f es decreciente en $[a, b]$ ”.

2. Demuestra que: “Si $f'(x_0) = 0$ y $f''(x_0) < 0$, entonces f presenta un máximo en x_0 ”.

EJERCICIOS Y PROBLEMAS PROPUESTOS

PARA PRACTICAR

Recta tangente

- 1 Halla la ecuación de la recta tangente a las siguientes curvas en los puntos que se indican:

a) $y = \ln(\operatorname{tg} 2x)$ en $x = \frac{\pi}{8}$

b) $y = \sqrt{\operatorname{sen} 5x}$ en $x = \frac{\pi}{6}$

c) $x^2 + y^2 - 2x - 8y + 15 = 0$ en $x = 2$

d) $y = (x^2 + 1)^{\operatorname{sen} x}$ en $x = 0$

s2 Halla las tangentes a la curva $y = \frac{2x}{x-1}$ paralelas a la recta $2x + y = 0$.

3 Obtén la ecuación de la recta tangente paralela al eje de abscisas en las siguientes curvas:

a) $y = x \ln x$

b) $y = x^2 e^x$

c) $y = \text{sen } 2x$

4 Halla la ecuación de la recta tangente a la curva $x^y \cdot y^x = 1$ en el punto $(1, 1)$.

5 Halla el punto de la gráfica de $y = 2\sqrt{x}$ en el que la tangente forma un ángulo de 60° con el eje X . Escribe la ecuación de esa tangente.

Máximos y mínimos. Puntos de inflexión

s6 Halla los máximos, los mínimos y los puntos de inflexión de las siguientes funciones:

a) $y = x^3 - 6x^2 + 9x$

b) $y = \frac{x^3(3x - 8)}{12}$

c) $y = x^4 - 2x^3$

d) $y = x^4 + 2x^2$

e) $y = \frac{1}{x^2 + 1}$

f) $y = e^x(x - 1)$

s7 Halla los intervalos de crecimiento y de decrecimiento, y los máximos y los mínimos de las siguientes funciones:

$$\text{a) } y = \frac{8 - 3x}{x(x - 2)}$$

$$\text{b) } y = \frac{x^2 + 1}{x^2 - 1}$$

$$\text{c) } y = \frac{x^3}{x^2 - 1}$$

$$\text{d) } y = \frac{2x^2 - 3x}{2 - x}$$

$$\text{e) } y = \frac{x^2 - 1}{x}$$

$$\text{f) } y = \frac{8}{x^2(x - 3)}$$

s8 Estudia la concavidad, la convexidad y los puntos de inflexión de las siguientes funciones:

a) $y = x^3 - 3x + 4$

b) $y = x^4 - 6x^2$

c) $y = (x - 2)^4$

d) $y = x e^x$

e) $y = \frac{2 - x}{x + 1}$

f) $y = \ln(x + 1)$

9 Estudia si las siguientes funciones tienen máximos, mínimos o puntos de inflexión en el punto de abscisa $x = 1$:

a) $y = 1 + (x - 1)^3$

b) $y = 2 + (x - 1)^4$

c) $y = 3 - (x - 1)^6$

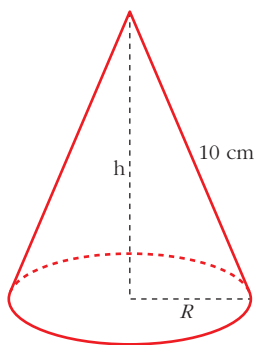
d) $y = -3 + 2(x - 1)^5$

Problemas de optimización

- 10** Determina dos números reales positivos sabiendo que su suma es 10 y que el producto de sus cuadrados es máximo.

- 11** Se quiere construir un recipiente cónico de generatriz 10 cm y de capacidad máxima. ¿Cuál debe ser el radio de la base?

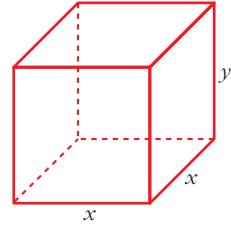
$$V = \frac{\pi}{3} R^2 h$$



Por tanto, el radio de la base será:

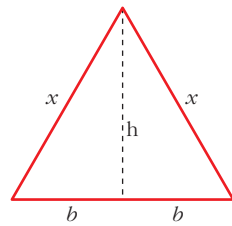
$$R^2 = 100 - h^2 = 100 - \frac{100}{3} = \frac{200}{3} \rightarrow R = \sqrt{\frac{200}{3}}$$

- s12** Se desea construir una caja cerrada de base cuadrada cuya capacidad sea 8 dm^3 . Averigua las dimensiones de la caja para que su superficie exterior sea mínima.



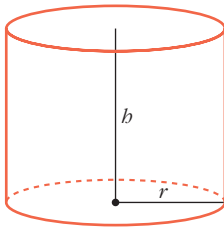
- s13** Entre todos los triángulos isósceles de perímetro 30 cm, ¿cuál es el de área máxima?

• Llama $2b$ a la base del triángulo.

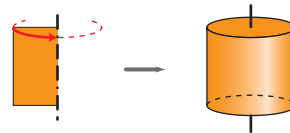
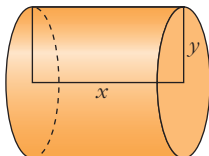


- s14** Se desea construir un depósito de latón con forma de cilindro de área total 54 cm^2 . Determina el radio de la base y la altura del cilindro para que el volumen sea máximo.

• $A_T = 2\pi R h + 2\pi R^2$; $V = \pi R^2 h$



- 15** Halla la base y la altura de una cartulina rectangular de perímetro 60 cm que, al dar la vuelta completa alrededor de un lado vertical, genere un cilindro de volumen máximo.



Regla de L'Hôpital

s16 Calcula, utilizando la regla de L'Hôpital, los siguientes límites, que son del tipo $\left(\frac{0}{0}\right)$:

a) $\lim_{x \rightarrow -1} \frac{x^3 + 1}{x^2 - 3x - 4}$

b) $\lim_{x \rightarrow 0} \frac{\ln(e^x + x^3)}{x}$

c) $\lim_{x \rightarrow 0} \frac{\operatorname{sen} x}{1 - \cos x}$

d) $\lim_{x \rightarrow 0} \frac{a^x - b^x}{x}$

e) $\lim_{x \rightarrow 0} \frac{\operatorname{arctg} x - x}{x - \operatorname{sen} x}$

f) $\lim_{x \rightarrow 0} \frac{e^x - e^{\operatorname{sen} x}}{1 - \cos x}$

g) $\lim_{x \rightarrow 0} \frac{\ln(\cos 3x)}{x^2}$

h) $\lim_{x \rightarrow 0} \frac{\ln(1+x)}{\sqrt[4]{x^3}}$

i) $\lim_{x \rightarrow 0} \frac{1 - \cos^2(2x)}{3x^2}$

j) $\lim_{x \rightarrow 0} \left(\frac{x - \operatorname{sen} x}{x \operatorname{sen} x} \right)$

k) $\lim_{x \rightarrow 0} \frac{1 - \cos x}{e^x - 1}$

l) $\lim_{x \rightarrow \pi/2} \frac{\operatorname{tg} x - 8}{\sec x + 10}$

Coeficientes de una función

- 17** Dada la función $y = ax^4 + 3bx^3 - 3x^2 - ax$, calcula los valores de a y b sabiendo que la función tiene dos puntos de inflexión, uno en $x = 1$ y otro en $x = 1/2$.

- s18** Sea $f(x) = ax^3 + bx^2 + cx + d$ un polinomio que cumple $f(1) = 0$, $f'(0) = 2$ y tiene dos extremos relativos para $x = 1$ y $x = 2$. Halla a , b , c y d .
- 19** De la función $f(x) = ax^3 + bx$ sabemos que pasa por $(1, 1)$ y en ese punto tiene tangente paralela a la recta $3x + y = 0$. Halla a y b .
- s20** La curva $y = x^3 + ax^2 + bx + c$ corta al eje de abscisas en $x = -1$ y tiene un punto de inflexión en $(2, 1)$. Calcula a , b y c .
- 21** La función $f(x) = x^3 + ax^2 + bx + c$ verifica que $f(1) = 1$, $f'(1) = 0$ y que f no tiene extremo relativo en $x = 1$. Calcula a , b y c .
- ☛ Si es $f'(1) = 0$ y no hay extremo relativo, tiene que haber una inflexión en $x = 1$.

- s22** Sea $f(x) = x^3 + ax^2 + bx + 5$. Halla a y b para que la curva $y = f(x)$ tenga en $x = 1$ un punto de inflexión con tangente horizontal.

PARA RESOLVER

- 23** Escribe la ecuación de la recta tangente a la curva $y = \frac{1}{x}$ en el punto $\left(3, \frac{1}{3}\right)$.

Comprueba que el segmento de esa recta comprendido entre los ejes de coordenadas está dividido en dos partes iguales por el punto de tangencia.

f'

24 Dada la parábola $y = 3x^2$, encuentra un punto en el que la recta tangente a la curva en dicho punto sea paralela a la cuerda que une los puntos $(0, 0)$ y $(4, 48)$.

s25 Halla la ecuación de la recta tangente a la curva $y = 4x^3 - 2x^2 - 10$ en su punto de inflexión.

26 Estudia los intervalos de crecimiento y los máximos y los mínimos de la función dada por $y = |x^2 + 2x - 3|$.

Definimos la función por intervalos. Para ello, calculamos los puntos donde $f(x) = 0$:

- 27** Estudia la existencia de máximos y mínimos relativos y absolutos de la función $y = |x^2 - 4|$.

s28 Halla el valor de c de modo que la función $y = \frac{e^x}{x^2 + c}$ tenga un único extremo relativo. ¿Se trata de un máximo, de un mínimo o de un punto de inflexión?

s29 La curva $y = x^3 + \alpha x^2 + \beta x + \gamma$ corta al eje de abscisas en $x = 1$ y tiene un punto de inflexión en $(3, 2)$. Calcula los puntos de la curva que tengan recta tangente paralela al eje OX .

s30 Halla los puntos de la curva $y = 3x^2 - 5x + 12$ en los que la recta tangente a ella pase por el origen de coordenadas. Escribe las ecuaciones de dichas tangentes.

👉 *Mira el ejercicio resuelto 1.*

- 31** Halla los puntos de la curva $y = \frac{1}{4}x^2 + 4x - 4$ en los que la recta tangente a esta pase por el punto $(0, -8)$.

Escribe las ecuaciones de las rectas tangentes en dichos puntos.

Página 306

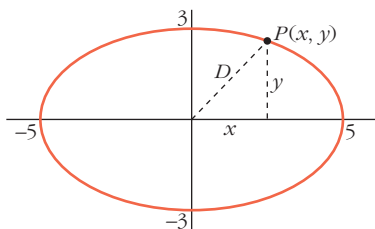
- 32** Halla el ángulo que forman las rectas tangentes a las funciones $f(x)$ y $g(x)$ en el punto de abscisa 2:

$$f(x) = 2x - x^2 \quad g(x) = x^2 - x - 2$$

• Recuerda que el ángulo de dos rectas se puede calcular así: $\operatorname{tg} \alpha = \left| \frac{m_1 - m_2}{1 + m_1 m_2} \right|$, donde m_1 y m_2 son las pendientes de las rectas.

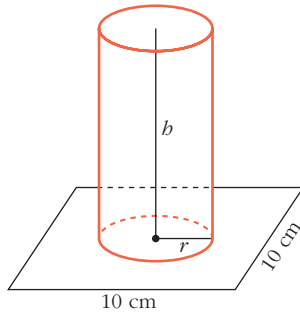
- s33** El punto $P(x, y)$ recorre la elipse de ecuación: $\frac{x^2}{25} + \frac{y^2}{9} = 1$

Deduce las posiciones del punto P para las que su distancia al punto $(0, 0)$ es máxima y también aquellas para las que su distancia es mínima.



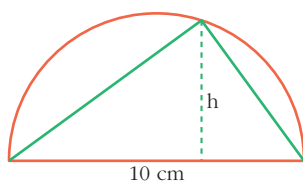
- s34** En un cuadrado de lado 10 cm queremos apoyar la base de un cilindro cuya área lateral es 50 cm^2 . ¿Cuál debe ser el radio del cilindro para que su volumen sea el mayor posible?

• Busca el máximo absoluto en los extremos del intervalo de definición.



- s35** Dada la función $f: [1, e] \rightarrow \mathbb{R}$ definida por $f(x) = \frac{1}{x} + \ln x$, determina cuáles de las rectas tangentes a la gráfica de f tienen la máxima pendiente.

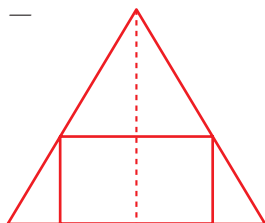
- s36** Entre todos los triángulos inscritos en una semicircunferencia de 10 cm de diámetro, ¿cuál es el de área máxima?



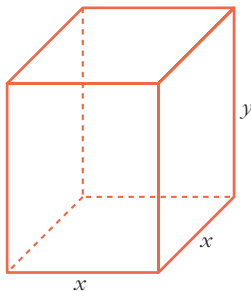
- 37** El valor, en millones de euros, de una empresa en función del tiempo t viene dado por $f(t) = 9 - (t - 2)^2$, $0 \leq t \leq 4,5$. Deduce en qué valor de t alcanzó su máximo valor y en qué valor de t alcanzó su valor mínimo.

- s38** En un triángulo isósceles de base 12 cm (el lado desigual) y altura 10 cm, se inscribe un rectángulo de forma que uno de sus lados esté sobre la base del triángulo y dos de sus vértices sobre los lados iguales:

- a) Expresa el área, A , del rectángulo en función de la longitud de su base, x , y di cuál es el dominio de la función.
- b) Halla el valor máximo de esa función.



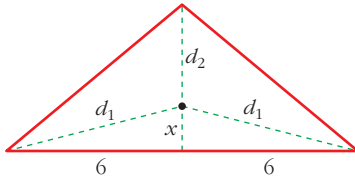
- 39** Queremos hacer un envase con forma de prisma regular de base cuadrada y capacidad 80 cm^3 . Para la tapa y la superficie lateral, usamos un determinado material, pero para la base, debemos emplear un material un 50% más caro. Halla las dimensiones de este envase para que su precio sea el menor posible.



- 40** Un triángulo isósceles tiene el lado desigual de 12 m y la altura relativa a ese lado de 5 m.

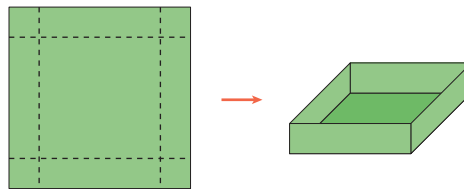
Encuentra un punto P sobre la altura tal que la suma de distancias de P a los tres vértices sea mínima.

altura = 5 m



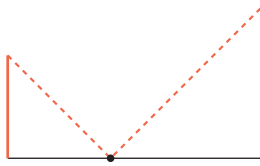
- 41** Con una lámina cuadrada de 10 dm de lado se quiere construir una caja sin tapa. Para ello, se recortan unos cuadrados de los vértices.

Calcula el lado del cuadrado recortado para que el volumen de la caja sea máximo.

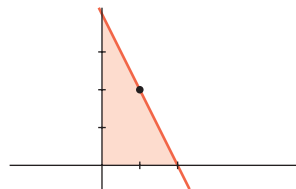


- 42** Dos postes de 12 m y 18 m de altura distan entre sí 30 m. Se desea tender un cable que una un punto del suelo entre los dos postes con los extremos de estos.

¿Dónde hay que situar el punto del suelo para que la longitud total del cable sea mínima?



- 43** De todas las rectas que pasan por el punto $(1, 2)$, encuentra la que determina con los ejes de coordenadas, y en el primer cuadrante, un triángulo de área mínima.



- 44** Calcula los siguientes límites:

- | | |
|----------------------------------------------------------------------------------|----------------------------------------------------------------------------|
| a) $\lim_{x \rightarrow (\pi/2)^-} \cos x \ln(\operatorname{tg} x)$ | b) $\lim_{x \rightarrow 0} (\cos x + \operatorname{sen} x)^{1/x}$ |
| c) $\lim_{x \rightarrow (\pi/2)^-} (\operatorname{tg} x)^{\cos x}$ | d) $\lim_{x \rightarrow 0} (e^x + x^3)^{1/x}$ |
| e) $\lim_{x \rightarrow +\infty} (1 + x)^{1/x}$ | f) $\lim_{x \rightarrow +\infty} x \ln\left(\frac{1+x}{x}\right)$ |
| g) $\lim_{x \rightarrow 0} (1 - \operatorname{sen} 2x)^{\operatorname{cotg} 3x}$ | h) $\lim_{x \rightarrow 0} \left(\frac{1}{x}\right)^{\operatorname{tg} x}$ |

45 Calcula los siguientes límites:

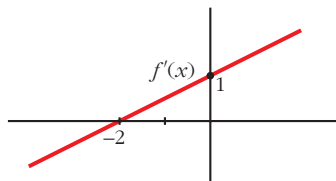
a) $\lim_{x \rightarrow 0} \left(\frac{1}{\operatorname{sen} x} - \frac{1}{x} \right)$

b) $\lim_{x \rightarrow \pi/4} \left(\frac{1}{\cos 2x} - \frac{\operatorname{tg} x}{1 - (4x/\pi)} \right)$

c) $\lim_{x \rightarrow 1} \left(\frac{e}{e^x - e} - \frac{1}{x - 1} \right)$

CUESTIONES TEÓRICAS

46 La gráfica adjunta corresponde a la función derivada, f' , de una función f .



- a) Estudia el crecimiento y decrecimiento de f y di si tiene máximo o mínimo.
- b) Estudia la concavidad y convexidad de f . ¿Tiene punto de inflexión?

47 Halla una función f cuya gráfica no sea una recta y en la que existan infinitos puntos en los que la recta tangente a su gráfica sea $y = 1$.

48 Si la función f tiene derivadas primera y segunda y es $f'(a) = 0$ y $f''(a) = 0$, ¿puede presentar f un máximo relativo en el punto a ?

En caso afirmativo, pon un ejemplo.

s49 Un polinomio de 3.º grado $ax^3 + bx^2 + cx + d$ tiene un máximo relativo en el punto $x = p$.

Ese máximo relativo, ¿puede ser máximo absoluto de la función? Razónalo.

s50 a) Si es posible, dibuja la gráfica de una función continua en el intervalo $[0, 4]$ que tenga, al menos, un máximo relativo en el punto $(2, 3)$ y un mínimo relativo en el punto $(3, 4)$.

b) Si la función fuera polinómica, ¿cuál ha de ser como mínimo su grado?

- s51** ¿Puede existir una función f definida en el intervalo $I = [0, 5]$ continua en todos los puntos de I , que tenga un máximo local en el punto $x = 3$, pero que no sea derivable en $x = 3$?
- 52** Si $y = f(x)$ es una función creciente en $x = a$, ¿se puede asegurar que $g(x) = -f(x)$ es decreciente en $x = a$?
- 53** Si $f''(x) > 0$ para todo x del dominio de f , ¿qué podemos decir de la gráfica de f ?
- s54** De una función f sabemos que $f'(a) = 0$, $f''(a) = 0$ y $f'''(a) = 5$. ¿Podemos asegurar que f tiene máximo, mínimo o punto de inflexión en $x = a$?

s55 Si $f'(a) = 0$, ¿cuál de estas proposiciones es cierta?:

- a) f tiene un máximo o un mínimo en $x = a$.
- b) f tiene una inflexión en $x = a$.
- c) f tiene en $x = a$ tangente paralela al eje OX .

56 Comprueba que $f(x) = x^3 - 18x$, definida en el intervalo $[0, 3\sqrt{2}]$, verifica las hipótesis del teorema de Rolle y encuentra el valor $c \in (0, 3\sqrt{2})$ para el que $f'(c) = 0$.

s57 Se tiene la función:

$$f(x) = \begin{cases} \frac{1}{x} & \text{si } -2 \leq x \leq -1 \\ \frac{x^2 - 3}{2} & \text{si } -1 \leq x \leq 0 \end{cases}$$

Prueba que f satisface las hipótesis del teorema del valor medio en $[-2, 0]$ y calcula el o los puntos en los que se cumple el teorema.

58 ¿Es posible calcular a , b , c para que la función:

$$f(x) = \begin{cases} 5x + 1 & \text{si } x < 1 \\ ax^2 + bx + 3 & \text{si } x \geq 1 \end{cases}$$

cumpla las hipótesis del teorema de Rolle en el intervalo $[0, c]$?

s59 La función $y = x^3 - 5x^2 + 3x - 2$, ¿cumple las hipótesis del teorema del valor medio en el intervalo $[0, 4]$?

En caso afirmativo, di cuál es el x_0 que cumple la tesis.

60 Calcula b para que $f(x) = x^3 - 4x + 3$ cumpla las hipótesis del teorema de Rolle en el intervalo $[0, b]$.

¿Dónde cumple la tesis?

$\sqrt{3}$

61 La derivada de una función f es positiva para todos los valores de la variable.

¿Puede haber dos números distintos, a y b , tales que $f(a) = f(b)$? Razónalo.

62 La función $f(x) = |\cos x|$ toma en los extremos del intervalo $[0, \pi]$ el valor 1.

¿Cumplirá el teorema de Rolle?

Página 308

63 Calcula a y b para que:

$$f(x) = \begin{cases} ax - 3 & \text{si } x < 4 \\ -x^2 + 10x - b & \text{si } x \geq 4 \end{cases}$$

cumpla las hipótesis del teorema del valor medio en el intervalo $[2, 6]$.

¿Dónde cumple la tesis?

- 64** Sea $f(x) = 1 - x^{2/3}$. Prueba que $f(1) = f(-1) = 0$, pero que $f'(x)$ no es nunca cero en el intervalo $[-1, 1]$. Explica por qué este resultado contradice aparentemente el teorema de Rolle.

65 Sea f una función continua y derivable tal que $f(0) = 3$. Calcula cuánto tiene que valer $f(5)$ para asegurar que en $[0, 5]$ existe un c tal que $f'(c) = 8$.

66 Calcula a , b y c para que la función:

$$f(x) = \begin{cases} x^2 + ax + b & \text{si } x < 2 \\ cx + 1 & \text{si } x \geq 2 \end{cases}$$

cumpla las hipótesis del teorema de Rolle en el intervalo $[0, 4]$.

¿En qué punto se cumple la tesis?

- 67** Enuncia el teorema de Rolle. ¿Es posible asegurar, utilizando dicho teorema, que la función $f(x) = \text{sen}(x^2) + x^2$ es tal que su derivada se anula en algún punto del intervalo $[-1, 1]$? Justifica la respuesta.

PARA PROFUNDIZAR

- 68** Dado $r > 0$, prueba que entre todos los números positivos x e y tales que $x^2 + y^2 = r$, la suma $x + y$ es máxima cuando $x = y$.

69 Sea $f(x) = ax + \frac{b}{x}$, con a y b números positivos. Demuestra que el valor mínimo de f en $(0, +\infty)$ es $2\sqrt{ab}$.

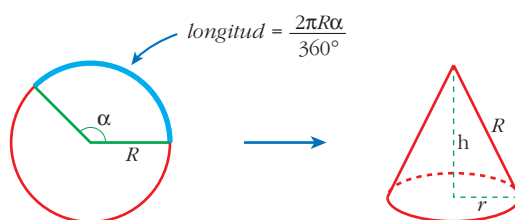
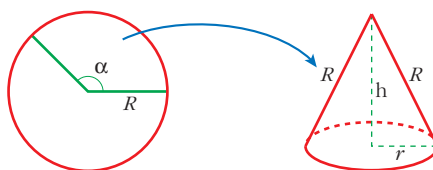
70 Calcula:

a) $\lim_{x \rightarrow 0^+} (e^{1/x} + e^{2/x})^x$

b) $\lim_{x \rightarrow 0^-} (e^{1/x} + e^{2/x})^x$

71 Calcula a y b para que se verifique $\lim_{x \rightarrow 0} \frac{ax^2 + bx + 1 - \cos x}{\operatorname{sen} x^2} = 1$

- 72** Si de un disco metálico quitamos un sector circular, podemos construir un vaso cónico. Determina el sector circular que debemos quitar para que el volumen del vaso sea máximo.

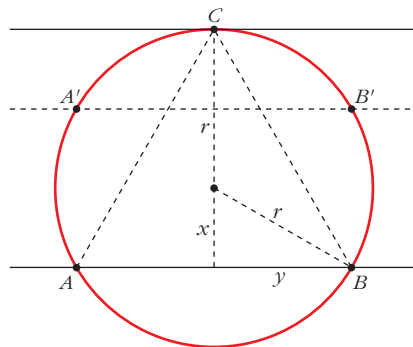


73 Las manecillas de un reloj miden 4 cm y 6 cm, y uniendo sus extremos se forma un triángulo. Determina el instante entre las 12 h y las 12 h 30 min en el que el área del triángulo es máxima.

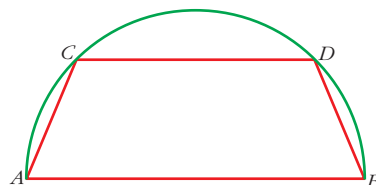
• ¿Qué ángulo recorre la aguja horaria en t minutos? ¿Y el minutero? ¿Cuál es el ángulo que forman entre las dos en t minutos?

74 Comprueba que, en la función de proporcionalidad inversa $f(x) = \frac{k}{x}$, se tiene que el punto c , que cumple $f'(c) = \frac{f(b) - f(a)}{b - a}$, es, precisamente, la media geométrica de a y b , $c = \sqrt{ab}$.

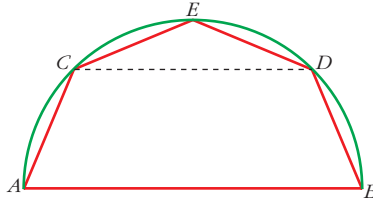
- 75** En una circunferencia de radio r se traza la tangente en un punto cualquiera C y una cuerda AB paralela a dicha tangente. Obtenemos, así, un triángulo ABC cuya área queremos que sea la mayor posible. Demuestra que, para ello, la distancia de C a la cuerda debe ser $\frac{3}{2}$ del radio.



- 76** En una semicircunferencia de diámetro $AB = 2r$ se traza una cuerda CD paralela a AB . ¿Cuál debe ser la longitud de esa cuerda para que el área del trapecio $ABDC$ sea máxima?

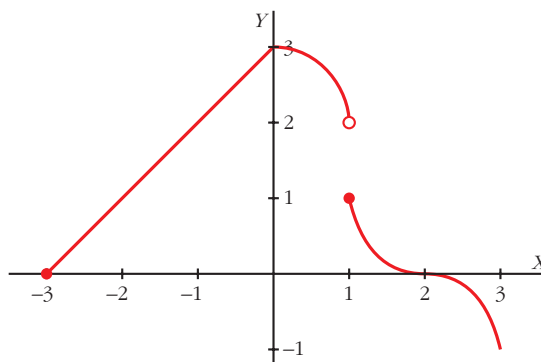


- 77** En la figura del problema anterior, llamamos E al punto medio del arco CD y dibujamos el pentágono $ACEDB$ que ves a continuación:

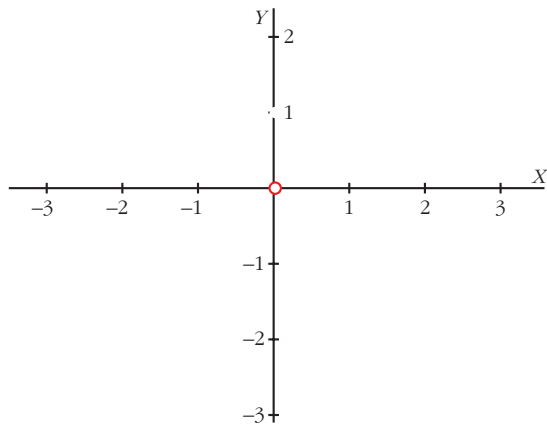


- a) Calcula la longitud de la cuerda CD para que el área del pentágono sea máxima.
- b) Calcula, también, el valor del área máxima del pentágono.

- s78** Estudia la continuidad y la derivabilidad de la función $f(x)$ definida en $[-3, 3]$ cuya gráfica es la siguiente:



Dibuja razonadamente la gráfica de $f'(x)$.



3. Estudia el crecimiento de la función:

$$f(x) = e^x (\cos x + \operatorname{sen} x)$$

y determina los máximos y los mínimos de la función para $x \in [0, 2\pi]$.

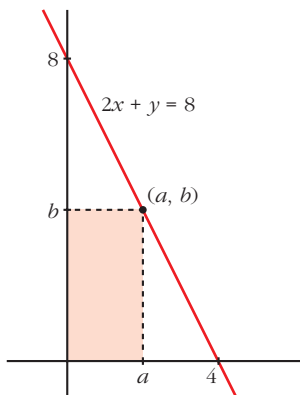
4. a) Estudia la curvatura de la siguiente función: $f(x) = x^2 \ln x$

b) Escribe la ecuación de la recta tangente en su punto de inflexión.

- 5.** De todos los rectángulos de área 100 dm^2 , halla las dimensiones del que tenga la diagonal mínima.

6. Calcula el punto de la curva $y = \frac{1}{1+x^2}$ en el que la pendiente de la recta tangente sea máxima.

7. Dentro del triángulo limitado por los ejes OX y OY y la recta $2x + y = 8$, se inscribe un rectángulo de vértices $(a, 0)$, $(0, 0)$, (a, b) y $(0, b)$. Determina el punto (a, b) al que corresponde el rectángulo de área máxima.



8. Calcula $\lim_{x \rightarrow 0} \frac{x^4 - (1/3)x^3}{x - \operatorname{tg} x}$.

9. Calcula el valor de k para que la expresión $\lim_{x \rightarrow 0} (e^x + kx)^{1/x}$ sea igual a e^4 .

10. Dada la función $f(x) = x^3 + ax^2 + bx$, halla a y b para que las rectas tangentes a la gráfica de $f(x)$ en los puntos de abscisas $x = 2$ y $x = 4$ sean paralelas a OX .

11. La función $f(x) = 1 - |x|$ si $x \in [-2, 2]$ verifica $f(-2) = f(2)$. Justifica si es posible encontrar algún $c \in (-2, 2)$ tal que $f'(c) = 0$.